

**Universitat de Barcelona**  
**Facultat de Formació del Professorat**  
**Departament de Didàctica de les Ciències Socials**

**L'AVALUACIÓ DE CORRECCIÓ OBJECTIVA**  
**COM A INSTRUMENT DIDÀCTIC PER A**  
**L'EFICIÈNCIA EN L'APRENTATGE**  
**DE LA HISTÒRIA**

**TESI DOCTORAL**

**YOLANDA INSA SAURAS**

**Director: CRISTÒFOL-A. TREPAT I CARBONELL**

**Barcelona, 2008**

# ANNEXOS

# **ANNEX 4:**

## **Prova de pilotatge**



## AVALUACIÓ FINAL D'HISTÒRIA

Marca la resposta que consideris correcta amb una **X** damunt del número corresponent del full adjunt En aquest full no hi escriguis res. En acabat retorna'l al professor. **NOMÉS UNA DE LES RESPOSTES ENCAPÇALADES PER LES LLETRES a), b), c), d) ÉS CORRECTA.**

1. Quina és la sèrie ordenada correctament?


- a) segle VI aC, segle I dC, 324 aC, 223 dC
- b) segle VI aC, 324 aC, 233 dC, segle I dC
- c) segle VI aC, 324 aC, segle I dC, 223 dC
- d) segle VI aC, segle I dC, 223 dC, 324 aC.

2. ¿A quina època de la Història pertany cada imatge? Indica una de les respostes encapçalades per lletres?

Imatge A



Imatge B



Imatge C



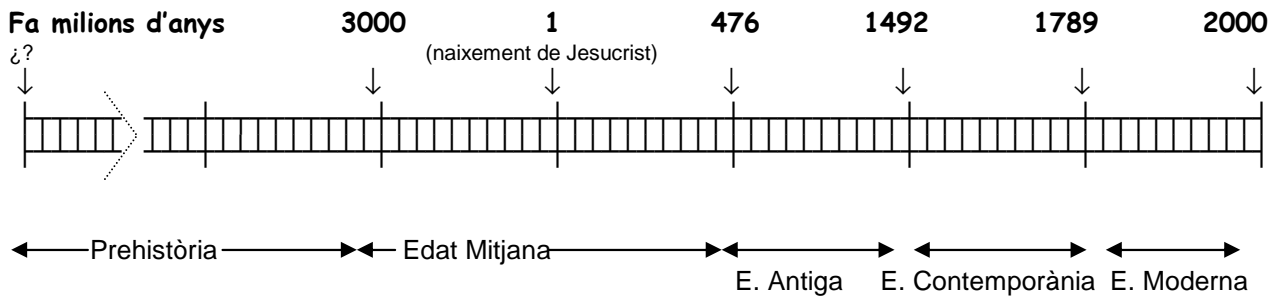
Imatge D



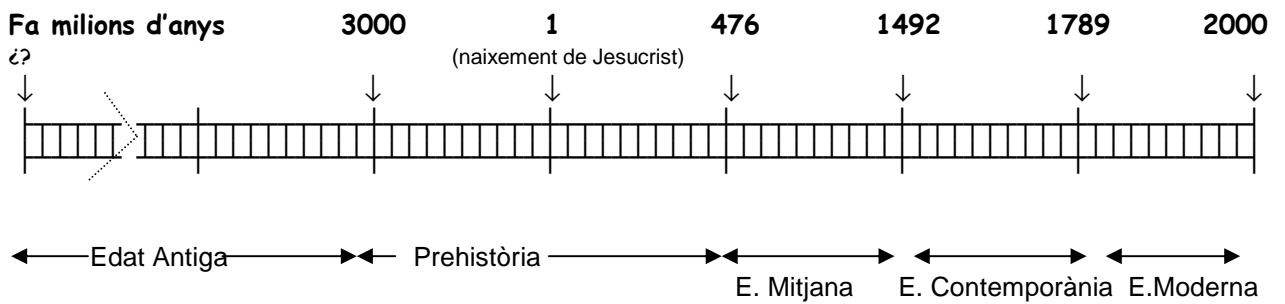
- |                           |                       |                |                 |
|---------------------------|-----------------------|----------------|-----------------|
| a) A = Edat Mitjana       | B= Edat Contemporània | C= Edat Antiga | D= Prehistòria  |
| b) A = Edat Contemporània | B= Edat Mitjana       | C= Edat Antiga | D= Prehistòria  |
| c) A = Edat Moderna       | B= Edat Mitjana       | C= Prehistòria | D = Edat Antiga |
| d) A = Edat Contemporània | B= Edat Mitjana       | C= Prehistòria | D= Edat Antiga  |

### 3. Quin dels següents frisos cronològics és correcte?

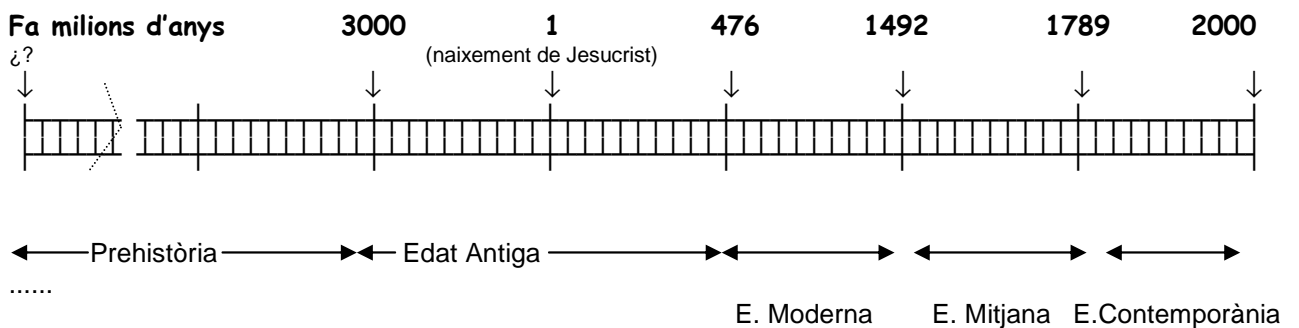
a)



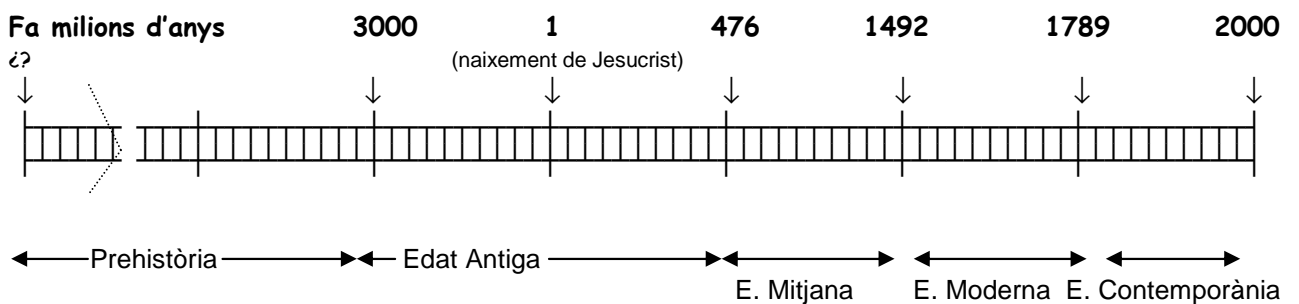
b)



c)



d)



**4. Quines de les següents afirmacions són correctes? Tria una de les opcions encapçalades per lletres.**

1. L'origen de l'espècie humana actual es troba a l'Àfrica
2. Durant el paleolític les persones eren sedentàries
3. En el neolític es documenta per primer cop l'agricultura
4. Durant el neolític l'economia es basava en la caça i la pesca.

- a) 1, 2
- b) 3, 4
- c) 1, 3
- d) 2, 4

**5. Llegeix el text següent i digues quines de les afirmacions a propòsit del text són correctes. Tria una de les opcions encapçalades per lletres**

*Els australopitecs són una espècie que va viure a l'Àfrica fa quatre milions d'anys fins en fa un i mig. Els australopitecs són els fundadors del llinatge humà. El que ells van aprendre, sobretot el fet de caminar amb dues cames, és el que ha permès el desenvolupament del gènere "Homo" al qual pertanyem nosaltres. El bipedisme deixa les mans lliures per recollir i transportar aliments. Permet utilitzar les mans per crear eines i fabricar-les.*

**Josep Corbella:** *El llarg camí dels homínids cap a la intel·ligència*

Els australopitecs:

- a. Són considerats els primers humans
- b. Eren bípedes
- c. En tenir les mans lliures podien dedicar-se a l'agricultura
- d. Podien fabricar estris de pedra

- a) 1, 2
- b) 3, 4
- c) 3
- d) 1, 2 i 4

**6. ¿Quines de les següents característiques de les pintures parietals paleolítiques són certes? Tria una de les opcions encapçalades per lletres.**

- a. Hi apareixien sovint homes i dones
- b. Hi representaven sobretot animals
- c. Hi sovintejaven escenes de caça
- d. Podien ser monocromes o polícromes
- e. Eren pintures a l'aire lliure
- f. S'han trobat a l'interior de les coves.

- a) 1, 2, 3
- b) 4, 5, 6
- c) 1, 3, 5
- d) 2, 4, 6

**7. Relaciona els nom amb les seves definicions. Tria una de les opcions encapçalades per lletres.**

- |                    |  |
|--------------------|--|
| <b>A. Faraó</b>    | 1. Persona que fa amb les mans i eines productes com ceràmica, mobles, armes o teixits                                       |
| <b>B. Escriba</b>  | 2. Persona sagrada que fa d'intermediari entre les divinitats i les persones   |
| <b>C. Artesà</b>   | 3. Persona que és propietat d'una altra persona. Poden ser venuts i comprats i no cobraven per la feina que els manaven fer. |
| <b>D. Esclau</b>   | 4. Mot egipci que vol dir 'casa gran' i es refereix al rei d'Egipte que vivia en una gran palau i era tingut per un déu      |
| <b>E. Sacerdot</b> | 5. Persones que sabien escriure sobre papir o sobre pedra a l'antic Egipte   |
|                    | 6. Persona que està sotmesa a un poder polític que no pot elegir.  |

- a) A4, B5, C1, D3, E2
- b) A4, B6, C2, D3, E3
- c) A3, B5, C1, D2, E3
- d) A3, B5, C2, D2, E6

**8. ¿Què caracteritzava la religió de l'Antic Egipte? Tria una de les opcions encapçalades per lletres.**

- 1. Era monoteista
- 2. Era politeista
- 3. Incineraven els morts
- 4. Creien una vida d'ultratomba.

- a) 1, 3
- b) 2, 4
- c) 1, 4
- d) 2, 3



9. ¿A quina mena de personatge de l'Antic Egipte correspon aquesta escultura?

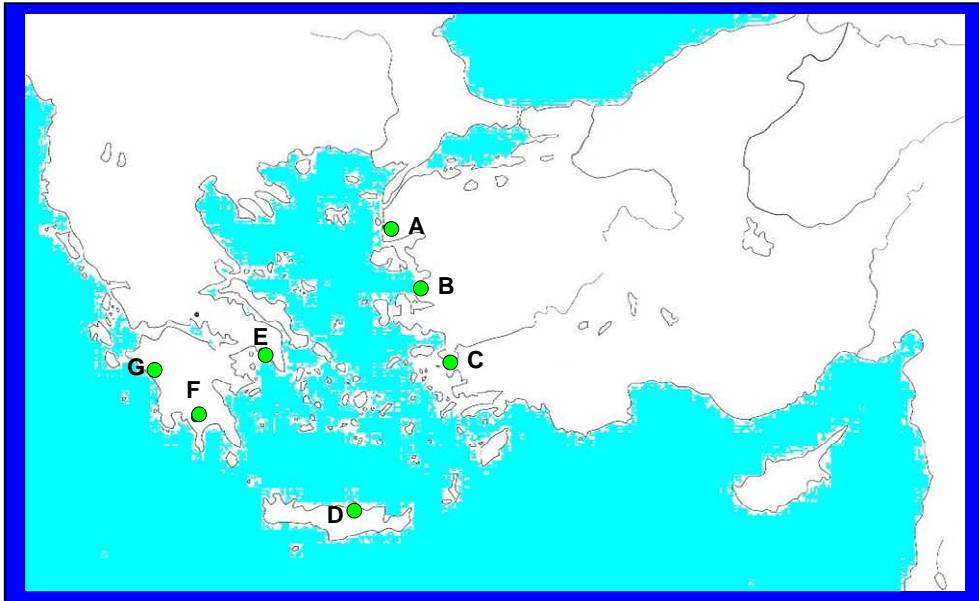
- a) Un faraó
- b) Un escriba
- c) Un sacerdot
- d) Un artesà



10. ¿Quines de les següents característiques de les escultures exemptes de l'antic Egipte són certes? Tria una de les opcions encapçalades per lletres.

- 1. Naturalisme
  - 2. Moviment
  - 3. Gran expressivitat del rostre
  - 4. Frontalitat
  - 5. Rigidesa
  - 6. Braços enganxats al cos
- 
- a) 1, 2, 3
  - b) 4, 5, 6
  - c) 1, 3, 5
  - d) 2, 4, 6

10. Mira el mapa i digues quines afirmacions sobre el nom de les polis gregues són certes. Tria una de les opcions encapçalades per lletres



1. La A és Atenes, la B és Cnossos i la D és Focia
2. La E és Atenes, la D és Cnossos, la A és Troia
3. La C és Milet, la B és Focia, la F és Esparta
4. La E és Atenes, la A és Esparta i la G és Olímpia

- a) 1, 3
- b) 2, 4
- c) 1, 4
- d) 2, 3

11. Llegeix el text següent i indica quines afirmacions correctes se'n poden deduir. Tria una de les opcions encapçalades per lletres.

*El poeta Homer a l'Odissea, descriu el palau d'Alcinou, rei dels feacis\**

Cinquanta esclaves té Alcinou al seu palau, unes per esclafar el blat amb la mola, i altres, assegudes, que teixeixen teles i fan girar els fusos. Així com els feacis són els més hàbils per dur una ràpida nau per la mar, així ho són les dones per a les arts del teler.

Fora del palau hi ha un gran hort ple d'arbres: pereres i magraners, figueres i verdes oliveres. I allí també hi ha una vinya. Al fons de l'hort hi creixien llegums sempre verds

\* **Feacis:** era un poble llegendari que en temps remots vivia a la illa grega de Corfú

**Els antics grecs:**

1. Coneixien el pa
2. Podien practicar el comerç marítim
3. Cultivaven tomàtecs en els horts
4. Eren les dones les que feien els vestits

- a) 1, 2
- b) 3, 4
- c) 3
- d) 1, 2 i 4

**13. Observa els següents capitells i digues a quin estil pertanyen. Tria una de les opcions encapçalades per lletres.**

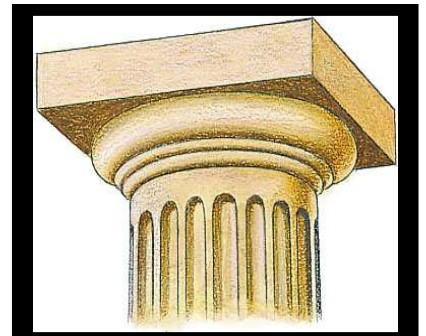
**A**



**B**



**C**



- |                   |                  |                  |
|-------------------|------------------|------------------|
| a) <b>A</b> dòric | <b>B</b> jònic   | <b>C</b> corinti |
| b) <b>A</b> jònic | <b>B</b> dòric   | <b>C</b> corinti |
| c) <b>A</b> jònic | <b>B</b> corinti | <b>C</b> dòric   |
| d) <b>A</b> dòric | <b>B</b> corinti | <b>C</b> jònic   |

**14. Durant la República romana els qui eren caps de l'exèrcit i de l'Estat eren els:**

- a) Els còsols
- b) Els pretors
- c) Els quàestors
- d) Els edils

15. Relaciona les lletres de les imatges amb el tipus d'edifici. Tria una de les opcions encapçalades per lletres.

A



B



C



D



A.	1. Aqüeducte
B.	2. Anfiteatre
C.	3. Estadi
D.	4. Teatre
	5. Terma

a) A1, B4, C2, D5

b) A1, B2, C4, D3

c) A2, B4, C2, D5

d) A1, B3, C4, D2

16. Quin dels fets següents és la causa immediata de l'entrada dels romans a la península Ibèrica?

- a) L'afany d'obtenir esclaus per necessitats econòmiques
- b) L'atac d'Anníbal durant la segona guerra púnica
- c) Una decisió del senat romà
- d) La necessitat d'obtenir metalls

**17. Abans de l'arribada dels romans al territori català estava ocupat pels:**

- a) Visigots
- b) Cristians
- c) Ibers
- d) Egipcis

**18. Quin dels aspectes següents és conseqüència de la romanització?**

- a) Una nova xarxa de ciutats
- b) La llengua ibèrica
- c) El conreu del blat
- d) El comerç de teixits

**19. Indica quins dels fets següents és una herència del pas dels romans per Catalunya. Tria una de les opcions encapçalades per lletres.**

- 1. La llengua catalana
  - 2. El dret romà
  - 3. La xarxa de ciutats
  - 4. Monuments com l'arc de Berà.
- a) 1, 2
  - b) 3
  - c) 4
  - d) 1, 2, 3 i 4